

தரீத கற்றல் கையேடு

தரம் ~ 4

கணிதம்

செயலட்டை - 01

1) அடுத்துவரும் எண்களை எழுதுக.

- 1) 345, 346, 347, , , ,
- 2) 407, 408, 409, , , ,
- 3) 479, 480, 481, , , ,
- 4) 297, 298, 299, , , ,
- 5) 500, 501, 502, , , ,

2) தரப்பட்ட எண்களின் எண்பெயரை எழுதுக.

- 1) 103 -
- 2) 220 -
- 3) 329 -
- 4) 490 -
- 5) 585 -

3) அட்டவணையில் உள்ள வெற்றிடங்களை நிரப்புக

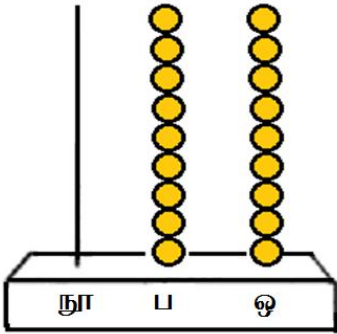
| எண் | இலக்கம் | இடப்பெறுமானம் |
|-----|---------|---------------|
| 205 | 5 | |
| 430 | | பத்தினிடம் |
| 609 | 0 | |
| 753 | 7 | |
| 891 | | நூறினிடம் |

4) அட்டவணையில் உள்ள வெற்றிடங்களை நிரப்புக.

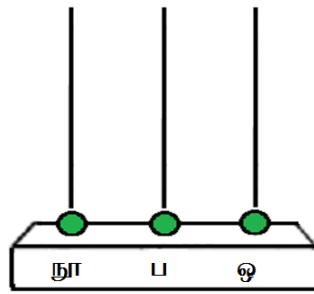
| எண் | இலக்கம் | இலக்கம் குறிக்கும் பெறுமானம் |
|-----|---------|------------------------------|
| 390 | 0 | |
| 539 | | 30 |
| 306 | 0 | |
| 700 | 7 | |
| 956 | | 900 |

5) எண்சட்டங்களில் குறிக்கப்பட்ட எண்களை எழுதுக.

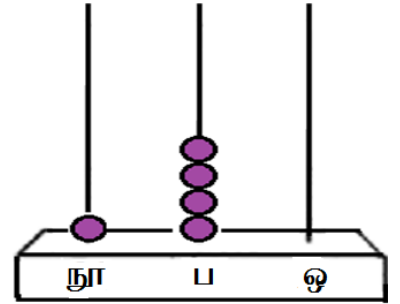
1.



2.



3.

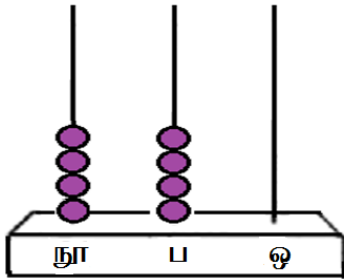


.....

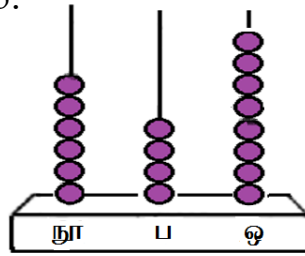
.....

.....

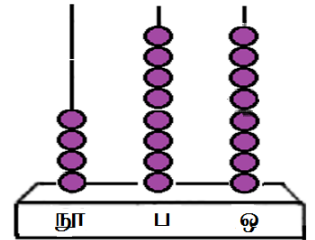
4.



5.



6.



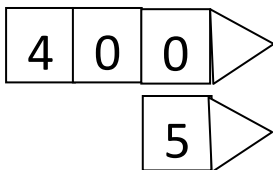
.....

.....

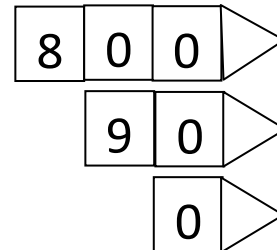
.....

6. அம்புக்குறி அட்டை மூலம் குறிக்கப்பட்ட எண்களை எழுதுக.

1.



2.



.....

.....